



COLEGIO ANGLO MAIPÚ
COORDINACIÓN TÉCNICA
AÑO ESCOLAR 2020

MATEMÁTICA 1° BÁSICO

GUÍA DE APRENDIZAJE REMOTO N°3 Corrección

Nombre: _____ Curso: _____ Fecha: ____ / ____ / ____

Objetivos:

Contar números naturales del 0 al 10, de 1 en 1, de 2 en 2 , hacia delante y hacia atrás..

Leer números del 0 al 10 y representarlos de manera concreta, pictórica y simbólica.


Establecer relaciones de orden en números del 1 al 10.


I Instrucciones:


1. Imprimir la guía y pegarla en el cuaderno de Matemática, si no puede imprimirla, puede solicitarle a un adulto que la copie directamente en el cuaderno, para que el estudiante pueda desarrollarla.
2. Desarrollar las actividades propuestas
3. Se revisará al regresar a clases




1. Marque con una cruz donde hay más elementos en cada fila.

a) 

b) 

c) 

d) 



2. Marque con una cruz el número mayor, en cada fila:




a) 5 2 1 4




b) 3 4 0 1

c) 1 2 5 4

d) 0 1 2 8

3. Marque con una cruz donde hay menos elementos en cada fila.

a)   

b)   

4. Marque con una cruz el número que es menor, en cada fila.

a) 5 2 8 4

b) 3 4 9 1

c) 6 2 5 4

d) 7 1 2 3

5.-Ordena de mayor a menor, escribe en cada estrella:

0 - 1 - 2 - 3 - 4 - 5 - 6 - 7 - 8 - 9

3 - 1 - 2

5 - 4 - 3

★ 3 → 2 → 1 ★

★ 5 → 4 → 3 ★

4 - 3 - 2

4 - 6 - 5

★ 4 → 3 → 2 ★

★ 5 → 6 → 7 ★

Ordena las siguientes cantidades de menor a mayor:

3 5 4 7 1 6

1 < 3 < 4 < 5 < 6 < 7

4 10 8 2 6 9


2 < 4 < 6 < 8 < 9 < 10

1 3 5 7 2 8

1 < 2 < 3 < 5 < 7 < 8



7.- Une los números del 1 al 10 y luego pinta.



8.- Une los puntos ahora del 10 al 1, luego pinta.

